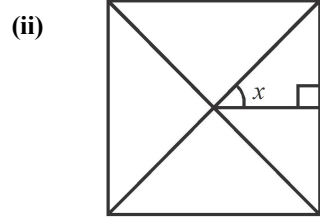
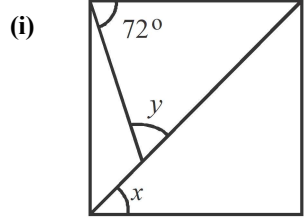


Time: 10 Minutes	Paper Math 7 (T-1)	Total Marks: 10
5th Month, 2nd Week, 2nd Day	Exercise 4.3 Q # (2)	

☆ Answer the following questions: درج ذیل سوالات کے جواب دیں۔

Q.1. Find the unknown angles in the given figures. (5x2=10)

دی گئی اشکال میں سے نامعلوم زاویے معلوم کریں۔

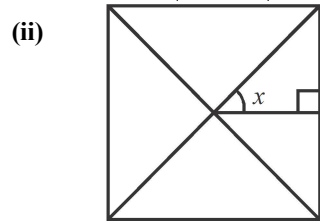
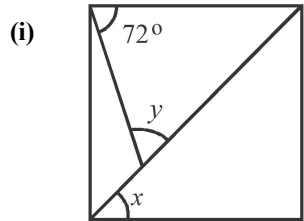


Time: 10 Minutes	Paper Math 7 (T-1)	Total Marks: 10
5th Month, 2nd Week, 2nd Day	Exercise 4.3 Q # (2)	

☆ Answer the following questions: درج ذیل سوالات کے جواب دیں۔

Q.1. Find the unknown angles in the given figures. (5x2=10)

دی گئی اشکال میں سے نامعلوم زاویے معلوم کریں۔

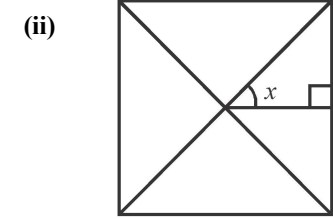
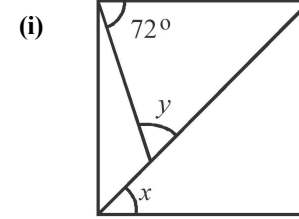


Time: 10 Minutes	Paper Math 7 (T-1)	Total Marks: 10
5th Month, 2nd Week, 2nd Day	Exercise 4.3 Q # (2)	

☆ Answer the following questions: درج ذیل سوالات کے جواب دیں۔

Q.1. Find the unknown angles in the given figures. (5x2=10)

دی گئی اشکال میں سے نامعلوم زاویے معلوم کریں۔



Time: 10 Minutes	Paper Math 7 (T-1)	Total Marks: 10
5th Month, 2nd Week, 2nd Day	Exercise 4.3 Q # (2)	

☆ Answer the following questions: درج ذیل سوالات کے جواب دیں۔

Q.1. Find the unknown angles in the given figures. (5x2=10)

دی گئی اشکال میں سے نامعلوم زاویے معلوم کریں۔

